

# 2019-2020年二年级上册月考试卷

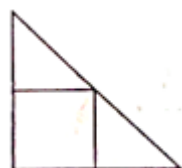
姓名：

时长：45 分钟

得分：

## 一、单选题（共 3 题；共 12 分）

1、下边图形中有（ ）个直角。

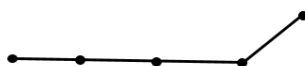


A. 3

B. 5

C. 6

2、数一数，下面图形中有多少条线段？

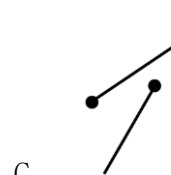
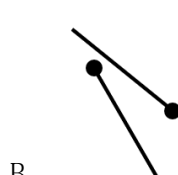
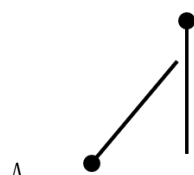


A. 6

B. 7

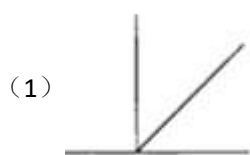
C. 8

3、下面图形中能形成角的是（ ）。



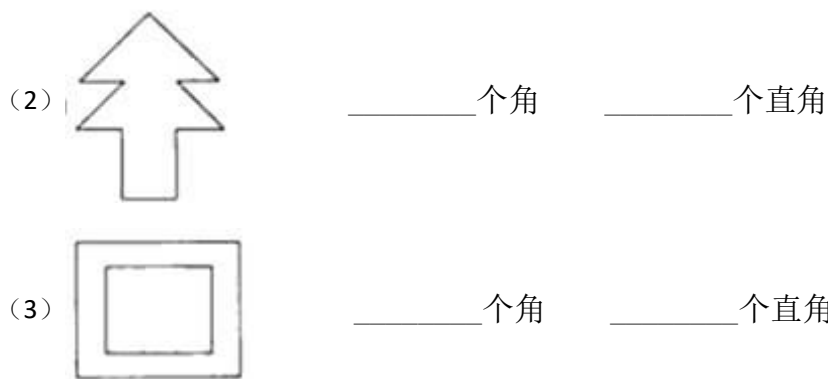
## 二、填空题（每空 4 分，共 36 分）

1、数一数，下面图形内各有几个角？几个直角？（只看图形内部哦）

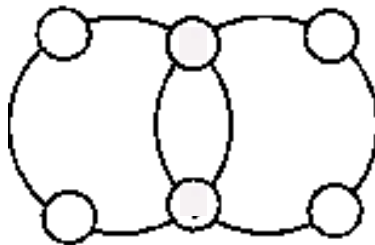


\_\_\_\_\_个角

\_\_\_\_\_个直角



2、把 1, 2, 12, 13, 14, 15 填入图中的小圆内, 使每个大圆圈上的四个数的和是 43.

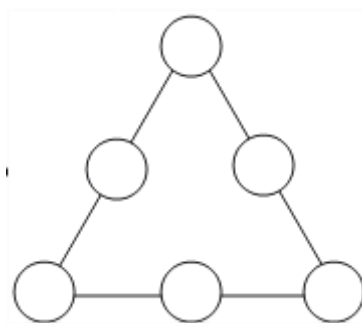


3、 $60 \times 50$  的积 末尾有 \_\_\_\_\_ 个“0”

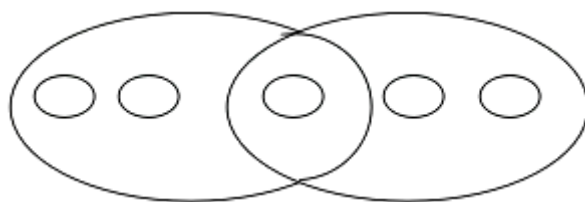
4、 $82 - (42 + 34)$  \_\_\_\_\_ 5

### 三、解答题（每题 13 分，共计 52 分）


1、把 3 - 8 这 6 个数分别填入 6 个圆圈, 使在同一条直线上的 3 个圆圈和为 15。



2、请你把 9、8、7、6、5 这五个数填入图中的小圆内，使两个大椭圆中的三个数的和都相等。



3、图中是一条线段  $AB$ ，在这条线段上点上 \_\_\_\_\_ 个点能够一共数出 6 条线段。



4、将 1 至 7 七个自然数填入图中的“○”中，使每个圆周和三条直线上三个数之和都相等，已知直线上的和为 12。

